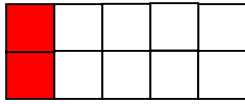


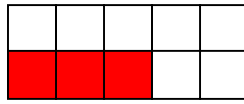
Họ và tên:

PHẦN I: TRẮC NGHIỆM

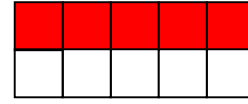
Câu 1: Hình nào đã tô màu $\frac{1}{5}$ hình:



A



B



C

Câu 2 : a, Đồng hồ chỉ mấy giờ?



A. 6 giờ

B. 6 giờ 15 phút

C. 6 giờ 30 phút

b, Đồng hồ chỉ 8 giờ rưỡi là:



A



B



C

Câu 3 : Đúng ghi Đ, sai ghi S:

Mai thức dậy lúc 6 giờ 15 phút. Hồng thức dậy lúc 6 giờ 30 phút.

- Mai dậy sớm hơn Hồng

- Hồng dậy sớm hơn Mai

Câu 4: Mỗi buổi sáng Mai tập thể dục từ 6 giờ đến 6 giờ 30 phút. Vậy Mai tập thể dục trong..... phút. Số thích hợp để điền vào chỗ chấm là:

A. 6 phút

B. 10 phút

C. 30 phút

Câu 5: 15l dầu chia đều vào 3 can dầu, số lít dầu trong mỗi can là:

A. 5l dầu

B. 3l dầu

C. 15l dầu

Câu 6: Vẽ thêm kim phút để đồng hồ chỉ :

a) 8 giờ đúng

b) 11 giờ 30 phút

