

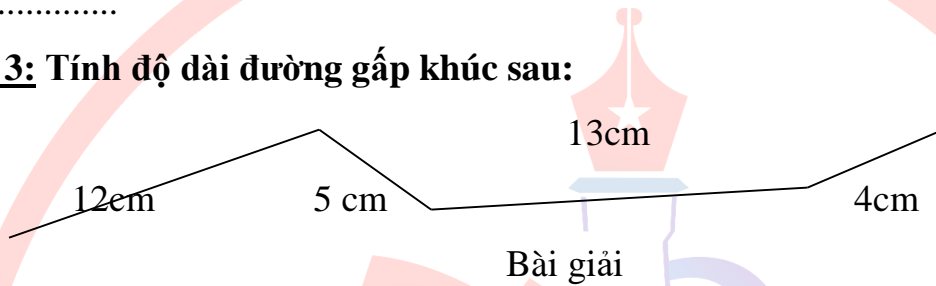
$5 \times 2 \times 4 = \dots\dots\dots$

$20 : 2 \times 3 = \dots\dots\dots$

Bài 2: Có 18 con gà chia đều vào 2 chuồng. Hỏi mỗi chuồng có bao nhiêu con gà?
Bài giải


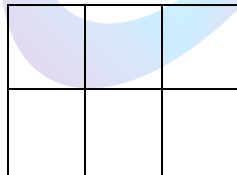

.....
.....
.....
.....
.....

Bài 3: Tính độ dài đường gấp khúc sau:



.....
.....
.....
.....

Bài 4 : Tô màu $\frac{1}{2}$ số ô vuông ở mỗi hình:



GIÁO DỤC BA DÌNH