

Họ và tên:

I. PHẦN TRẮC NGHIỆM

Câu 1: Trong phép chia $15 : 3 = 5$, 3 được gọi là:

- A. Số bị chia B. Số chia C. Thương D. Thừa số

Câu 2: Một phép tính có số bị chia là 24, số chia bằng 3. Thương là:

- A. 21 B. 27 C. 8 D. 6

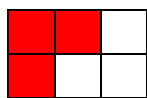
Câu 3: Cho phép tính $27 : 3 + 47 = \dots$. Kết quả của phép tính đó là:

- A. 9 B. 47 C. 56 D. 66

Câu 4: $X \times 3 = 24$. Vậy giá trị của X là:

- A. 21 B. 15 C. 5 D. 8

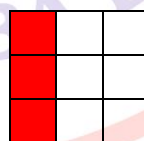
Câu 5: Đã tô màu $\frac{1}{3}$ hình nào ?



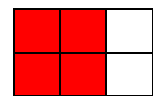
A



B



C



D

Câu 6: Thương của số lớn nhất có một chữ số với 3 là:

- A. 1 B. 3 C. 9 D. Không tìm được

