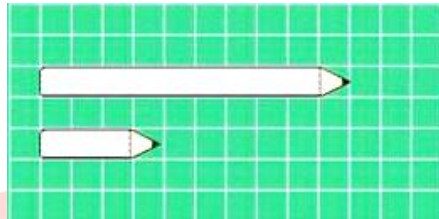


Họ và tên.....

A. TRẮC NGHIỆM

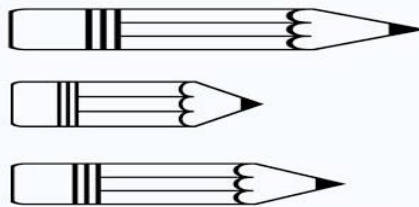
Câu 1: Khoanh vào cái bút dài hơn:



Câu 2: Khoanh vào chiếc bút ngắn hơn:




Câu 3: Đánh dấu x vào ô trống đặt cạnh chiếc bút chì dài nhất



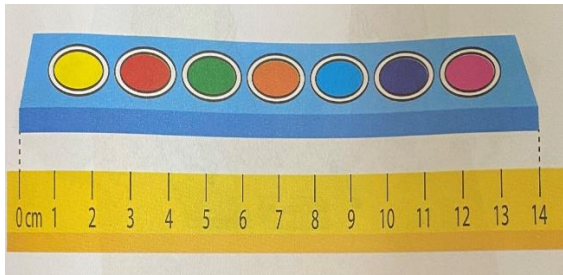
Câu 4: Tô màu đỏ vào chiếc lọ thấp nhất, tô màu xanh vào chiếc lọ cao nhất.




Câu 5: Đánh dấu x vào ô trống bên cạnh cách đặt thước đúng:



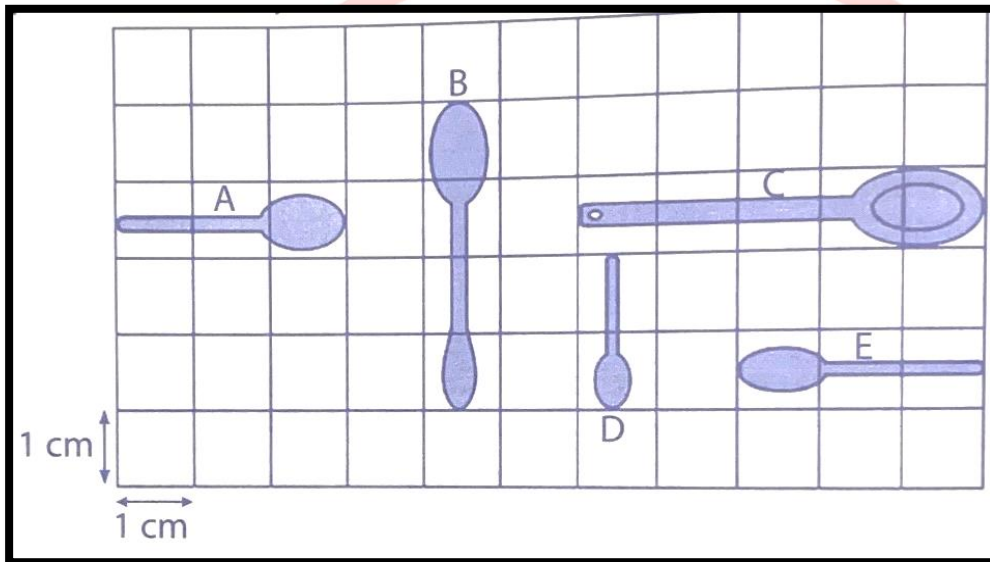
Câu 6: Viết số đo độ dài thích hợp vào chỗ trống





B. TỰ LUẬN

Câu 1: Quan sát hình vẽ, viết số thích hợp vào chỗ chấm:



- Chiếc thìa A dài:cm
- Chiếc thìa B dài:cm
- Chiếc thìa C dài:cm
- Chiếc thìa D dài:cm
- Chiếc thìa E dài:cm
- Chiếc thìa dài nhất là : thìa, dàicm

Câu 2: Tính:

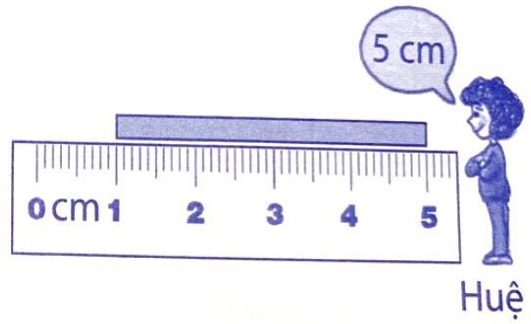
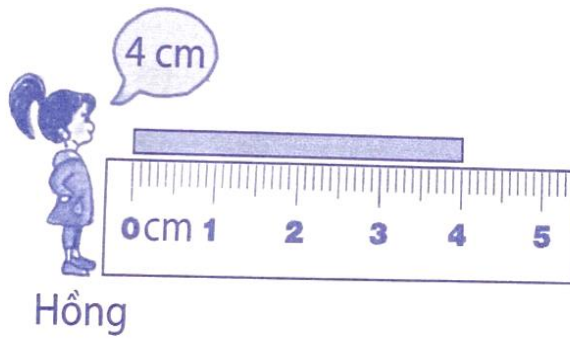
$$7\text{cm} + 3\text{cm} = \dots\dots\dots\text{cm}$$

$$9\text{cm} - 3\text{cm} = \dots\dots\dots\text{cm}$$

$$1\text{cm} + 9\text{cm} = \dots\dots\dots\text{cm}$$

$$10\text{cm} - 6\text{cm} = \dots\dots\dots\text{cm}$$

Câu 3: Quan sát hình vẽ và trả lời câu hỏi:



Cách đo của bạn nào đúng? Vì sao?

Trả lời:

.....

.....

.....

Câu 4: Em dùng thước kẻ đo chiều dài băng giấy sau sau:



Băng giấy dài:.....cm

GIÁO DỤC BA ĐÌNH